

PÄRM 32

1. صندوق مركب على سطح السيارة هل يؤثر على استهلاك الوقود

A . لا يؤثر على استهلاك الوقود

B . نعم يزداد في حالة وجود حمولات في داخل الصندوق

C . نعم يزيد من استهلاك الوقود دائما في كل الحالات

D . احيانا

2 . صندوق مركب على سطح السيارة هل يؤثر البيئة

A . نعم

B . كلا

C . احيانا

3. ماذا تعني هذه الشاخصة



- A . ممنوع مرور العربات الاكبر حجما من السيارة الخصوصية  
B . ممنوع تجاوز العربات التي تدار بمحركات والتي يزيد عدد عجلاتها عن اثنين  
C . ممنوع مرور كافة المركبات التي تدار بمحركات والتي يزيد عدد عجلاتها عن اثنين  
D . ممنوع تجاوز السيارات الخصوصية

4. ما الذي تعنيه هذه الشاخصة



- A . ممنوع التوقف بعد الشاخصة
- B . ممنوع الوقوف قبل الشاخصة
- C . ممنوع الوقوف بعد الشاخصة
- D . ممنوع التوقف قبل الشاخصة

5. اين يوضع زيت الفرامل البريك

الشكر جري

عباس



- A . A
- B . B
- C . C
- D . D

پتلا جی

6. ما هو السبب الذي يجعل العربة تنعطف في المنعطف بصورة تفوق ما يعادل حركة المقود

- A . ان العربة محملة بصورة ثقيلة في مكان متاخر في طرفها الخلفي
- B . ان العربة محملة بصورة ثقيلة في مكان متقدم في طرفها الامامي
- C . ان الحمولة موزعة بالتساوي في جميع انحاء العربة
- D . ان العربة محملة بصورة ثقيلة على الحامل المركب على سقفها

7. ما هو الادعاء الصحيح المتعلق بحقل السير

- A . تعتبر حافة الطريق حقل سير
- B . يجب ان يكون حقل السير معلما بعلامات الطرق
- C . ليس من اللازم ان يكون حقل السير معلما بعلامات الطرق

8. ماهو اهم سبب يكمن وراء وجود كرسي الاطفال مركب عكس اتجاه حركة السير

- A . يتيح للطفل امكانية تواصل افضل مع بقية الركاب
- B . يتوفر لراس الطفل ورقبته افضل درجة من الحماية
- C . يتوفر للطفل اكثر وضع مريح بالنسبة له
- D . يتجنب الطفل الشعور بالغثيان بصورة افضل

9. هل يسمح لك توقيف العرببة اذا كانت الشاخصة سارية المفعول



- A . نعم يسمح لي توقيف العرببة في اي مكان اذا كنت لا اشكل عائقا لاي حركة مرور اخرى .
- B . لا يسمح لي توقيف العرببة هنا قطعيا .
- C . نعم يسمح توقيف العرببة ولكن فقط في اماكن توقيف العرببات المحددة بعلامات
- D . نعم ولكن فقط اذا كنت حاصلًا على تصريح خاص

10. هل يمكن استرجاع رخصة القيادة للشخص بعد ان مسك عدة مرات من قبل البوليس بسبب السكر بالرغم من عدم كون الشخص قد ساق السيارة في حالة سكر

A . نعم يمكن ان يتم استعادة رخصة القيادة .

B . لا يمكن استعادة رخصة القيادة الا اذا كان الشخص قد ساق السيارة في حالة سكر

11. اي من الشواخص التالية هي علامة منع



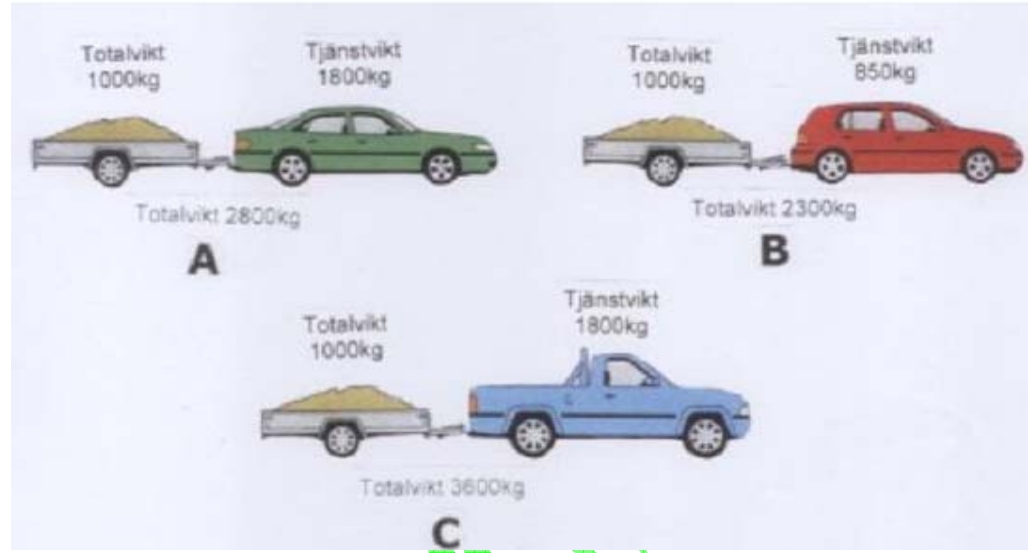
A . A

B . B

.C . C

. D D

12. في اي حالة تسحب المقطورة كمقطورة خفيفة



A . A

B . B


C . ولا اي واحدة منهم

C . D

شكر جدي



13. في اي شاخسة يجب الانعطاف الى اليسار في التقاطع



A . A

B . B

. A , C . C

B , C . D

عبدالرحمن الشكرا جري

14. متى يجب ان يتم الفحص السنوي للمركبة المرفقة لوحة تسجيلها



A . من 1 كانون الثاني januari الى 31 ايار maj


B . من 1 اذار mars الى 31 تموز juli

C . من 1 كانون الثاني januari الى 31 مارس mars

D . الست اشهر الاولى من السنة

التقني جري

15. في اي من هذه الشواخص يمنع الوقوف



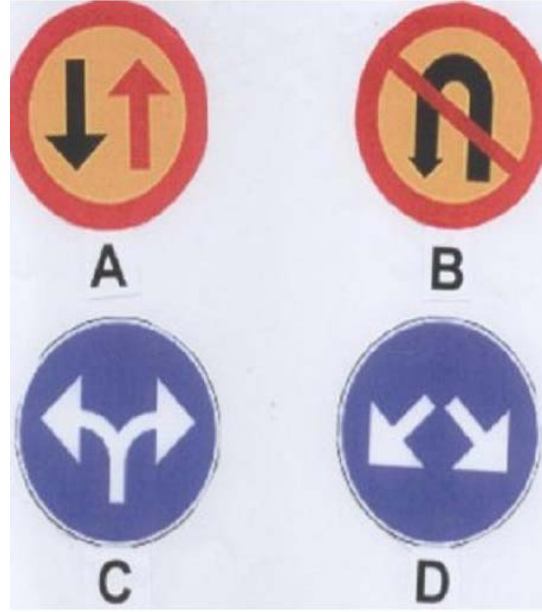
- A . A
- B . B
- C . C
- D . D

16. هل يسمح لك سيطرة شاحنة خفيفة مع مقطورة في طريق نصبت فيه هذه الشاخصة



- A . لا ان هذا الطريق مخصص فقط للسيارات  
B . لا تبين الشاخصة انه لايسمح لك ذلك  
C . نعم تبين الشاخصة انه اقل مسافة مسموح بها الى المركبات التي تدار بمحركات.  
D . نعم ولكن فقط اذا كانت السيارة والمقطورة غير محملتان.

17. اي من شواخص الطريق يمنعك من الاستمرار الى الامام في الطريق



- A . A  
B . B  
C . C  
D . D

18. عندما توجه العربة في منعطف تشعر ان العربة تنعطف اكثر مما يعادل لف عجلة القيادة ما هو السبب في ذلك

A . العبي محملة بصورة ثقيلة من الخلف

B . حالة دواليب العربة الامامية اسوأ من دواليبها الخلفية

C . العربة محملة بصورة ثقيلة من الامام

D منظومة التوجيه الهيدروليكي لا تعمل

19 هل يسمح لك سياقة مركبة زجاجها الامامي والخلفي نظيف من الثلج ولكن سطحها فيه ثلج متراكم

A . نعم

B . كلا

C . كلا لان وزن الثلج يستهلك وقود ويؤثر على البيئة

20 تسوق بسيارة تسحب مقطورة ماذا يعني ضغط كعبرة السحب غير كافي

A . يزداد اهتراء العجلات الخلفية

B . يمكن ان يرتفع استهلاك الوقود

C . ضوء السيارة الناصي يمكن ان يبهر الاخرين

D يمكن ان تسوء حالة الطريق بصورة كبيرة


21 توجد حالات خطيرة عند التجاوز رغم وجود سير مقابل ما هو السبب في ذلك

A . من الصعب على السائق الذي يتجاوز ان يفكر بسرعة سيارته

B . من الصعب تقدير مسافة بعد العربة القابلة وسرعتها

C . من الصعب تقدير السرعة التي تسير بها العربات الموجودة في الامام

22 اي من هذه المركبات واقفة بصورة صحيحة



A,B . A

B,C . B

A . C

23 عند سياقتك فترة طويلة شعرت بالتعب الشديد وفجأة سقط راسك امامك على وشك ان تنام ما هو افضل شي تفعله

A . اتوقف لتناول الطعام

B . اتوقف لكي انام

C . افتح نوافذ السيارة

D اخذ استراحة قصيرة

24 ما هي اكثر الحوادث حدوثا عند الانعطاف نحو اليسار على طريق ريفي

A . اصطدام مع عربة قادمة من جهة اليمين في التقاطع

B . اصطدام مع عربة تسير امامهم

C . اصطدام مع عربة قادمة من الجهة المقابلة

D . اصطدام مع عربة قادمة من الخلف

E . اصطدام مع عربة قادمة من جهة اليسار في التقاطع

25 هل يمكن ان يتاثر خطر التعرض لظاهرة الرؤية النفقية بسبب السرعة

A . نعم السرعة العالية تقلل من خطر التعرض للرؤية النفقية

B . لا ليس للسرعة اي علاقة بالرؤية النفقية

C . لا يعود سبب الرؤية النفقية الى تغير منظور العين

D . نعم السرعة تزيد من خطر التعرض للرؤية النفقية



عباس  
الشكر جي

26

. A

. B

. C

. D

27

. A

. B

. C

. D

28

. A

. B

. C

. D

29

. A

. B

. C

عباس الشكرا جي

- . D
- 30
- . A
- . B
- . C
- . D
- 31
- . A
- . B
- . C
- . D
- 32
- . A
- . B
- . C
- . D
- 33
- . A
- . B

عباس  
الشكر جي

- . C
- . D
- 34
- . A
- . B
- . C
- . D
- 35
- . A
- . B
- . C
- . D
- 36
- . A
- . B
- . C
- . D
- 37
- . A

عباس  
الشكر جي

- . B
- . C
- . D
- 38
- . A
- . B
- . C
- . D
- 39
- . A
- . B
- . C
- . D
- 40
- . A
- . B
- . C
- . D
- 41

عباس الشكرا جي

- . A
- . B
- . C
- . D
- 42
- . A
- . B
- . C
- . D
- 43
- . A
- . B
- . C
- . D
- 44
- . A
- . B
- . C
- . D

عجاس الشكر جي

45

. A

. B

. C

. D

46

. A

. B

. C

. D

47

. A

. B

. C

. D

48

. A

. B

. C

عباس  
الشكرا جي

. D

49

. A

. B

. C

. D

50

. A

. B

. C

. D

عبدالرشيد الشاذلي جري



عباس الشكرا جي

**Pärm 3**

[abbas2ha@hotmail.com](mailto:abbas2ha@hotmail.com)

[www.ahlulbeit.se.com](http://www.ahlulbeit.se.com)

0735557898